

פתרו את החידות.

אפשר לצייר את הלבנים על לוח המבנה העשורי.
זכרו: אין אפשרות להנים יותר מ-9 לבנים בכל עמודה.

1

אלפים	מאות	עשרות	יחידות
[]	[]	[]	[]

יש לי 8 יחידות, 12 עשרות ו-6 מאות.

מי אני? _____

2

אלפים	מאות	עשרות	יחידות
[]	[]	[]	[]

יש לי 13 יחידות, 22 עשרות ו-8 מאות.

מי אני? _____

3

אלפים	מאות	עשרות	יחידות
[]	[]	[]	[]

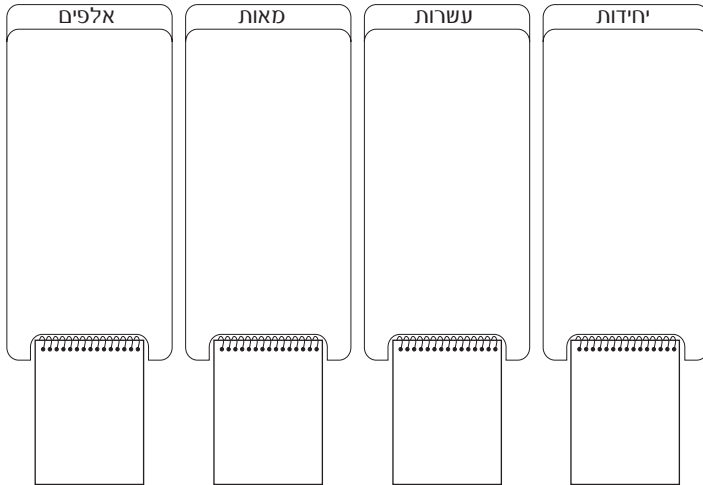
יש לי 10 יחידות, 2 עשרות ו-5 מאות.

מי אני? _____

פתרו את החידות.

אפשר לצייר את הלבנים על לוח המבנה העשורי.
זכרו: אין אפשרות להנים יותר מ-9 לבנים בכל עמודה.

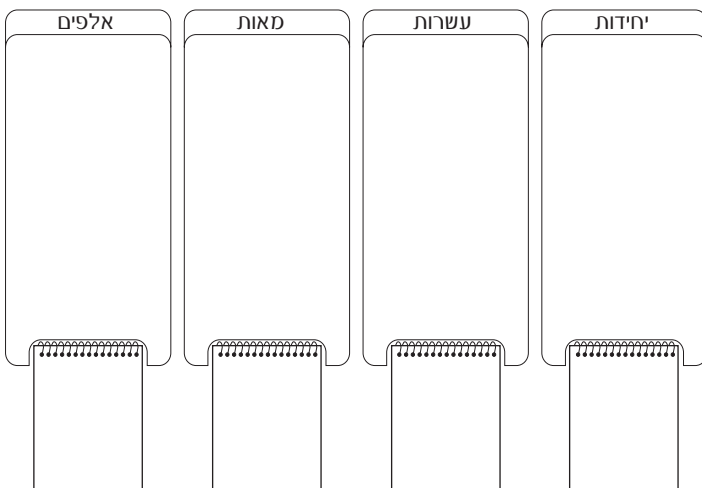
1



לגילה יש 19 לבנים-של-100 ארזות ככל
האפשר.

איזה מספר מייצגות הלבנים של גילה?

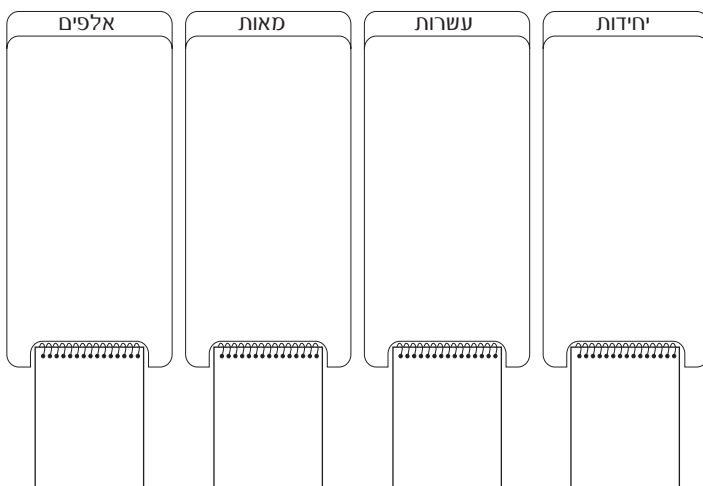
2



לנאור יש 20 לבנים-של-10 ו-20 לבנים-
של-100, ארזות ככל האפשר.

איזה מספר מייצגות הלבנים של נאור?

3



לעמיחי יש 367 לבנים-של-10.

איזה מספר מייצגות הלבנים של עמיחי?

פתרו את החידות.

השלימו את הנתונים על לוח המבנה העשורי בהתאם להוראות.

1

אלפים	מאות	עשרות	יחידות

לחותם יש 1,543 לבנים יחידות.
איזה מספר מייצגות הלבנים של חותם?

2

אלפים	מאות	עשרות	יחידות

לשיר יש 27 לבנים יחידות
ו-34 לבנים של-100.
איזה מספר מייצגות הלבנים של שיר?

3

אלפים	מאות	עשרות	יחידות

לענבר יש 90 לבנים של-10
ו-90 לבנים של-100.
איזה מספר מייצגות הלבנים של ענבר?

פתרו את החידות.

השלימו את הנתונים על לוח המבנה העשורי בהתאם להוראות.

1

אלפים	מאות	עשרות	יחידות

למשה יש 10 לבנים-של-10

ו-10 לבנים-של-100.

למרים יש 11 לבנים-של-100.

הלבנים של מי משניהם מייצגות מספר גדול יותר.

רמז: גלו את המספרים שמייצגות הלבנים של משה

ומרים.

2

אלפים	מאות	עשרות	יחידות

אני מספר בן 4 ספרות.

יש בי 30 מאות.

מה ספרת האלפים שלי?

3

אלפים	מאות	עשרות	יחידות

אני מספר בן 4 ספרות.

יש בי 24 יחידות.

17 עשרות.

26 מאות.

מי אני?
