

מִצְאוּ אֶת הַתְּרָגִיל שֶׁתּוֹצְאָתוֹ גְּדוֹלָה יוֹתֵר מִבְּלִי לִפְתּוֹר אֶת הַתְּרָגִילִים וְעֲנוּ עַל הַשְּׁאֵלוֹת:

**דוגמה**

$$23-9$$

<

$$23-4$$

איך ידעת לאיזה תרגיל תהיה תוצאה גדולה יותר?

*כי המספר הראשון שיהיה בתרגיל המספר השני בתרגיל הראשון יותר גדול מאשר המספר השני בתרגיל השני.*

$$45-45$$

$$50-45$$

איך ידעת לאיזה תרגיל תהיה תוצאה גדולה יותר?

---



---

$$39-9$$

$$39-29$$

איך ידעת לאיזה תרגיל תהיה תוצאה גדולה יותר?

---



---

$$78-23$$


$$87-23$$

איך ידעת לאיזה תרגיל תהיה תוצאה גדולה יותר?

---



---



למורה: כל השוואות התרגילים בדף זה מבוססות על שלב א' של הפעילות. כלומר מספר אחד זהה ומספר שני שונה.

מצאו את התרגיל שתוצאתו גדולה יותר מבלי לפתור את התרגילים וענו על השאלות:

דאגה

43-32

>

23-23

איך ידעת לאיזה תרגיל תהיה תוצאה גדולה יותר?

כי שני המספרים בתרגיל השני שווים ולא התוצאה היא 0

45-32

30-30

איך ידעת לאיזה תרגיל תהיה תוצאה גדולה יותר?

80-30

70-50

איך ידעת לאיזה תרגיל תהיה תוצאה גדולה יותר?

55-23

65-65

איך ידעת לאיזה תרגיל תהיה תוצאה גדולה יותר?



למורה: כל השוואות התרגילים בדף זה מבוססות על שלב ב' של הפעילות. כלומר המחוסר בתרגיל אחד גדול מהמחוסר בתרגיל שני ואילו המחוסר בתרגיל אחד קטן מהמחוסר בתרגיל שני.

סמנו < = > מבלי לפתור את התרגילים וננו על השאלות:

דוגמה

$43-32$

=

$44-33$

איך ידעת לאיזה תרגיל תהיה תוצאה גדולה יותר?

הכמות ש'רדה מהמחסר ירדה גם מהמחסר לכן התוצאה

נשארת זהה.

$38-12$

$48-2$

איך ידעת לאיזה תרגיל תהיה תוצאה גדולה יותר?

$80-30$


$70-40$

איך ידעת לאיזה תרגיל תהיה תוצאה גדולה יותר?

$55-5$

$55-40$

איך ידעת לאיזה תרגיל תהיה תוצאה גדולה יותר?



למורה: השוואות התרגילים בדף זה מסכמות את הלמידה בפעילות 88. כלומר יש כאן השוואות ברמות קושי שונות המבוססות על חוקיות משתנה.

ענו על השאלות:

$$\boxed{\phantom{00}} = \boxed{\phantom{00}}$$

רשמו צמד תרגילי חסור שנתן להשוות ביניהם  
מבלי לפתור אותם, תוך שמוש בחוק הפצוי.  
הסבירו איך בחרתם את התרגילים.

---



---

$$\boxed{\phantom{00}} = \boxed{\phantom{00}}$$

רשמו צמד תרגילי חסור שנתן להשוות ביניהם  
מבלי לפתור אותם.  
הסבירו איך בחרתם את התרגילים.

---

$$\boxed{\phantom{00}} = \boxed{\phantom{00}}$$


רשמו צמד תרגילי חסור שנתן להשוות ביניהם  
על-ידי שמוש בהשוואת מספרים.  
הסבירו את בחירתכם.

---

$$\boxed{\phantom{00}} = \boxed{\phantom{00}}$$

רשמו צמד תרגילי חסור שנתן להשוות ביניהם  
מבלי לפתור אותם.  
הסבירו איך בחרתם את התרגילים.

---



למורה: השוואות התרגילים בדף זה מסכמות את הלמידה בפעילות 88 והוא מתאים לעבודה לאחר רק לאחר דיון מתמטי בתוצאות דפים 314/3 ו-314/4.

ענו על השאלות:

$$\square > \square$$

רשמו צמד תרגילי חסור שנתן להשוות ביניהם  
מבלי לפתור אותם.  
הסבירו איך בחרתם את התרגילים.

---



---

$$\square < \square$$

רשמו צמד תרגילי חסור שנתן להשוות ביניהם  
מבלי לפתור אותם.  
הסבירו איך בחרתם את התרגילים.

---

$$\square = \square$$


רשמו צמד תרגילי חסור שנתן להשוות ביניהם  
מבלי לפתור אותם.  
הסבירו את בחירתכם.

---

$$\square > \square$$

רשמו צמד תרגילי חסור שנתן להשוות ביניהם  
מבלי לפתור אותם.  
הסבירו איך בחרתם את התרגילים.

---



למורה: השוואות התרגילים בדף זה מסכמות את הלמידה בפעילות 88 והוא מתאים לעבודה לאחר רק לאחר דיון מתמטי בתוצאות דפים 314/3 ו-314/4.