




## הקיפו בעיגול את שם המספר המוצג על לוח המבנה העשורי.

1

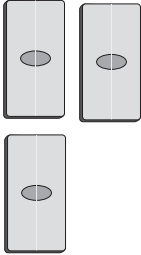
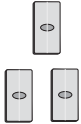
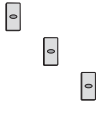
מאות	עשרות	יחידות
		
1	1	7

א. מאה ושבע

ב. מאה ושבעים

ג. מאה ושבע-עשרה

2

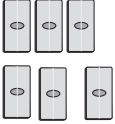
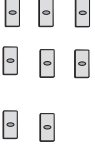
מאות	עשרות	יחידות
		
3	3	3

א. שלוש מאות ושלוש

ב. שלוש מאות שלושים ושלוש

ג. שלושים ושלוש

3

מאות	עשרות	יחידות
		
	6	8

א. שש מאות ושמונים

ב. שישים ושמונה

ג. שש מאות ושמונה

מתחו קו בין שם המספר לבין לוח מבנה העשורי המתאים.

מאות	עשרות	יחידות
4	3	6

א. ארבע מאות שלושים ושש

ב. ארבע מאות

מאות	עשרות	יחידות
5	7	6

ג. שבע מאות שישים וחמש

ד. ארבע מאות שישים ושלוש

מאות	עשרות	יחידות
7	6	5

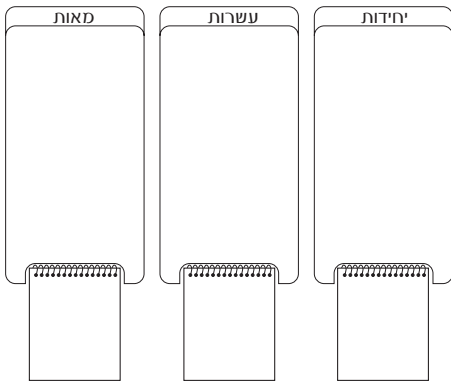
ה. שבע מאות חמישים ושש

מאות	עשרות	יחידות
4	6	3

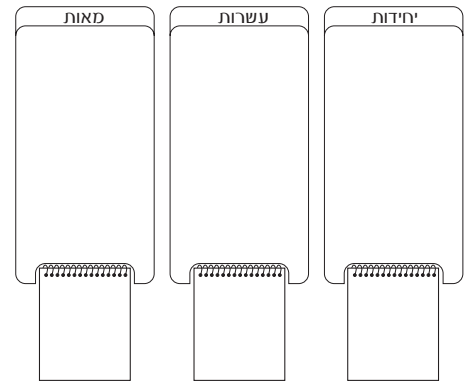
ו. חמש מאות שבעים ושש

ז. שלוש מאות ועשרים ושנים

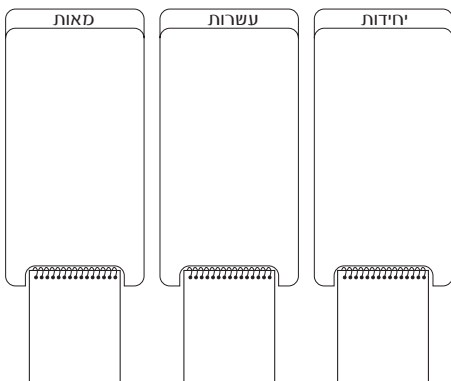
## ציירו וכתבו על לוח מבנה העשורי את המספרים הבאים.



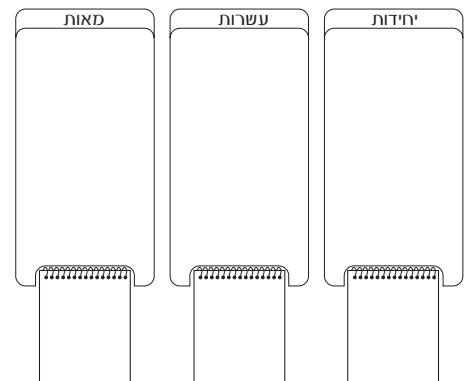
שבע מאות שלושים ושניים



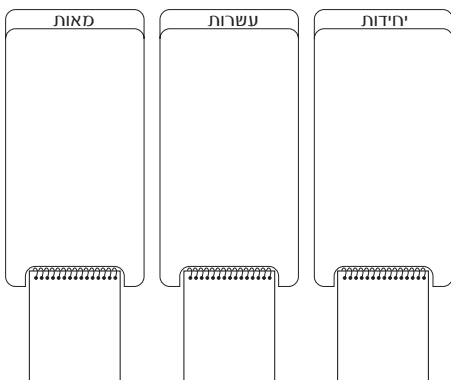
שלוש מאות ושש עשרה



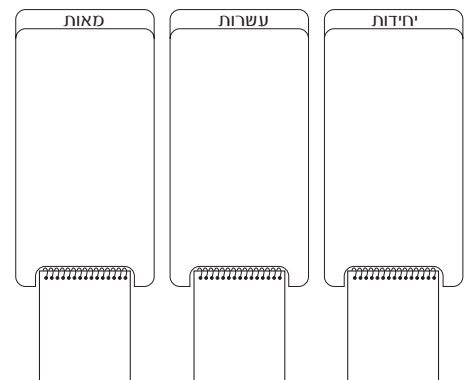
שש מאות ארבעים וארבע



שבעים ותשע



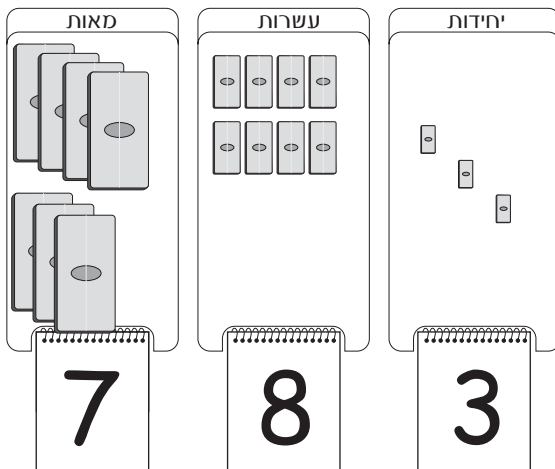
מאתיים חמישים ושלוש



תשע מאות תשעים ותשע

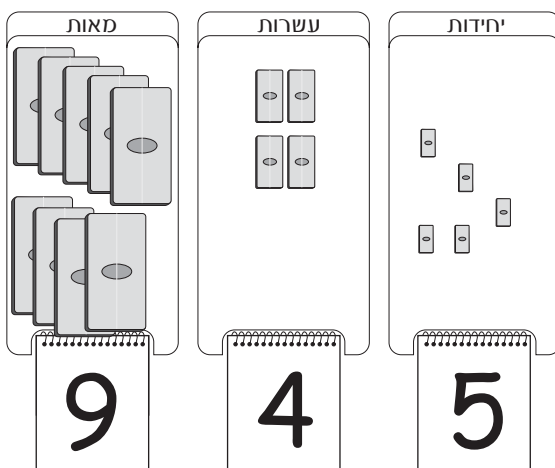
## ענו על השאלות.

1



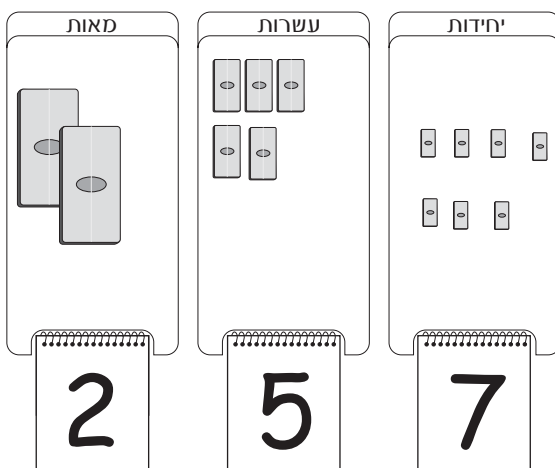
- מהי ספרת המאות במספר 783? \_\_\_\_\_
- כמה לבנים של-100 מכיל המספר 783? \_\_\_\_\_
- מהי ספרת העשרות במספר 783? \_\_\_\_\_
- כמה לבנים של-10 מכיל המספר 783? \_\_\_\_\_
- מהי ספרת היחידות במספר 783? \_\_\_\_\_
- כמה לבנים יחידות מכיל המספר 783? \_\_\_\_\_

2



- מהי ספרת המאות במספר 945? \_\_\_\_\_
- כמה לבנים של-100 מכיל המספר 945? \_\_\_\_\_
- מהי ספרת העשרות במספר 945? \_\_\_\_\_
- כמה לבנים של-10 מכיל המספר 945? \_\_\_\_\_
- מהי ספרת היחידות במספר 945? \_\_\_\_\_
- כמה לבנים יחידות מכיל המספר 945? \_\_\_\_\_

3



- מהי ספרת המאות במספר 257? \_\_\_\_\_
- כמה לבנים של-100 מכיל המספר 257? \_\_\_\_\_
- מהי ספרת העשרות במספר 257? \_\_\_\_\_
- כמה לבנים של-10 מכיל המספר 257? \_\_\_\_\_
- מהי ספרת היחידות במספר 257? \_\_\_\_\_
- כמה לבנים יחידות מכיל המספר 257? \_\_\_\_\_

## ענו על השאלות.

4

רועי בנה מגדל מ- 45 1 לבנים הארוזות ככל האפשר.

בכמה לבנים-של-100 השתמש רועי? \_\_\_\_\_

בכמה לבנים-של-10 השתמש רועי? \_\_\_\_\_

בכמה לבנים יחידות השתמש רועי? \_\_\_\_\_

5

מאיה רוצה לבנות רכבת מ- 179 לבנים.

כמה לבנים יחידות מאיה צריכה כדי לבנות את הרכבת? \_\_\_\_\_

6

לגל יש 21 לבנים-של-10 ו-5 לבנים יחידות.

מה המספר שמייצגות הלבנים של גל? \_\_\_\_\_

7

לשרון יש קופסה עם 623 לבנים יחידות.

כמה לבנים-של-100 יכולה שרון לארוז? \_\_\_\_\_

כמה לבנים-של-10 יכולה שרון לארוז? \_\_\_\_\_

## ענו על השאלות.

8

רועי קנה משחק ב - 345 שקלים.

בכמה שטרות של 100 שקלים השתמש רועי? \_\_\_\_\_

בכמה מטבעות של 10 שקלים השתמש רועי? \_\_\_\_\_

בכמה מטבעות של שקל 1 השתמש רועי? \_\_\_\_\_

9

מאיה מקבלת בכל יום שקל אחד.

כמה ימים ידרשו למאיה כדי לאסוף 772 שקלים? \_\_\_\_\_

10

לגל יש 38 מטבעות של 10 שקלים ו- 2 מטבעות של שקל.

כמה כסף יש לגל? \_\_\_\_\_

11

למיקי יש:

3 מטבעות של 10 שקלים.

6 שטרות של 100 שקלים.

7 מטבעות של שקל 1.

כמה כסף יש למיקי? \_\_\_\_\_