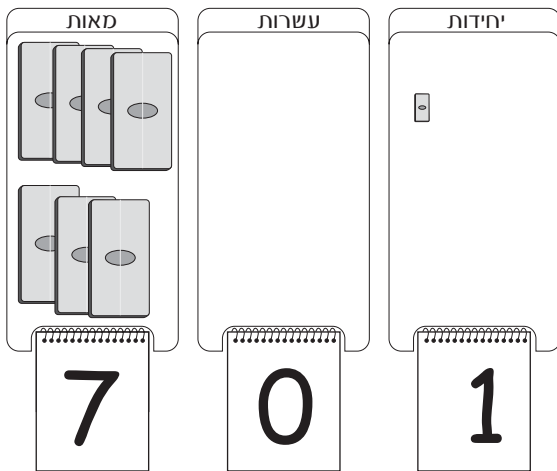


הקיפו בעיגול את שם המספר המוצג על לוח המבנה העשורי.

1

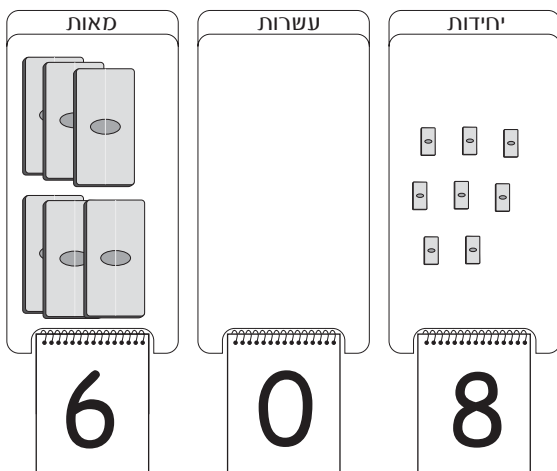


א. שבע מאות ועשר

ב. מאה ושבע

ג. שבע מאות ואחת

2

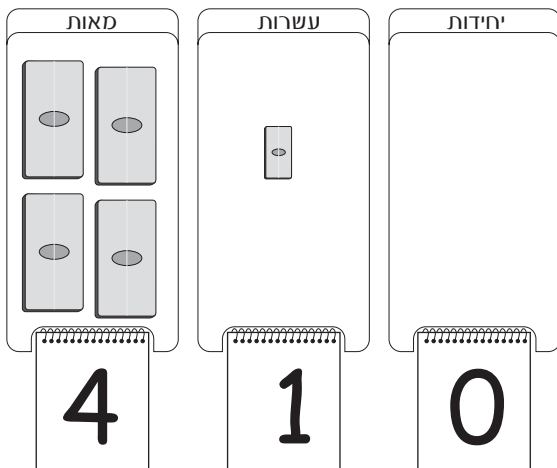


א. שמונה מאות ושש

ב. שש מאות ושמונה

ג. שישים ושמונה

3



א. מאה וארבעים

ב. ארבעים ואחת

ג. ארבע מאות ועשר

הקיפו בעיגול את שם המספר המוצג על לוח המבנה העשורי.

4

מאות	עשרות	יחידות
5	0	3

א. חמש מאות ושלוש

ב. חמש מאות ושלושים

ג. שלוש מאות וחמש

5

מאות	עשרות	יחידות
2	5	0

א. מאתיים וחמש

ב. מאתיים וחמישים

ג. מאתיים וחמש עשרה

6

מאות	עשרות	יחידות
1	0	1

א. אחת עשרה

ב. מאה ועשר

ג. מאה ואחת

הקיפו בעיגול את שם המספר המוצג על לוח המבנה העשורי.

7

אלפים	מאות	עשרות	יחידות
	2	5	0

א. עשרים וחמש

ב. מאתיים וחמישים

ג. חמש מאות ועשרים

8

אלפים	מאות	עשרות	יחידות
1	0	5	0

א. מאה וחמישים

ב. אלף חמש מאות וחמש

ג. אלף וחמישים

9

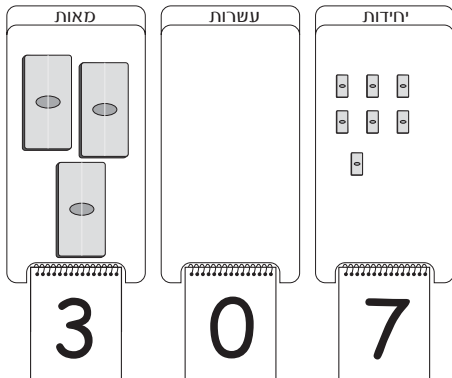
אלפים	מאות	עשרות	יחידות
2	1	2	1

א. אלפיים מאה עשרים ואחד

ב. אלפיים מאתיים עשרים ואחד

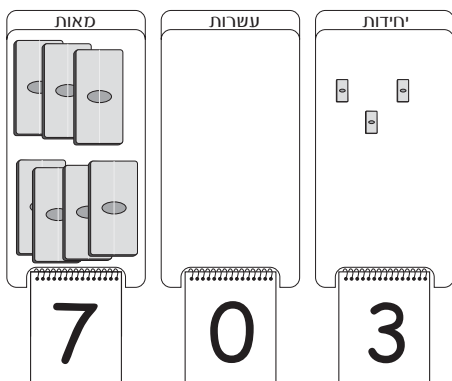
ג. מאתיים עשרים ואחד

מתחו קו בין שם המספר לבין לוח המבנה העשורי המתאים.

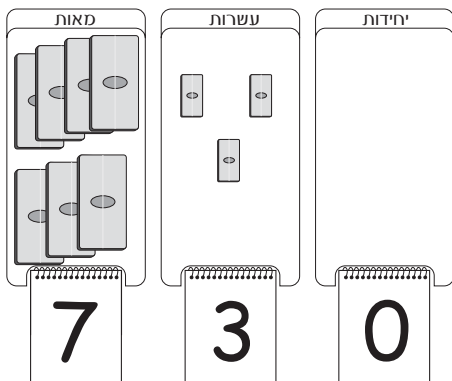


א. שלוש מאות ושבעים

ב. שבע מאות ושלוש עשרה

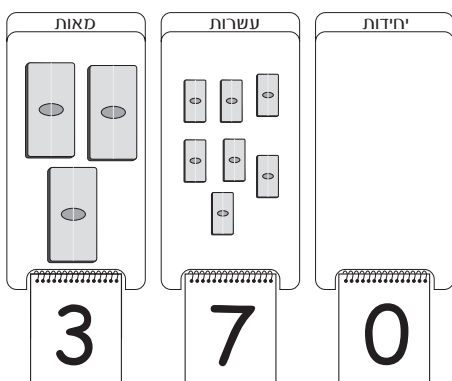


ג. שבע מאות ושלוש



ד. שלוש מאות ושבעים

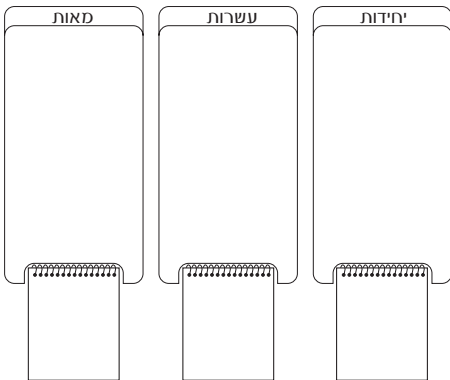
ה. שבע מאות ושלושים



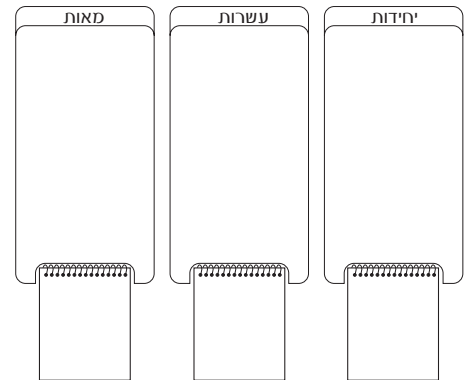
ו. שלוש מאות שבעים ושש

ז. שלוש מאות ושבע

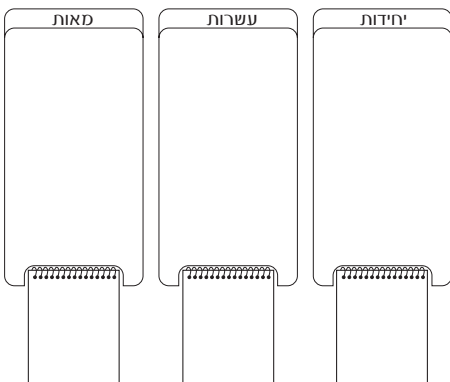
ציירו וכתבו על לוח המבנה העשורי את המספרים הבאים.



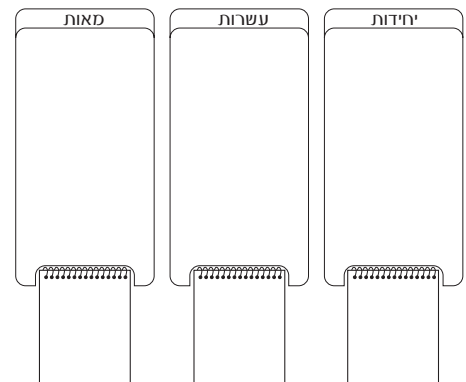
מאתיים ושש



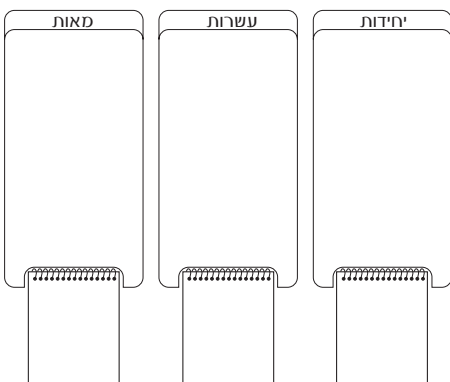
מאה ושלושים



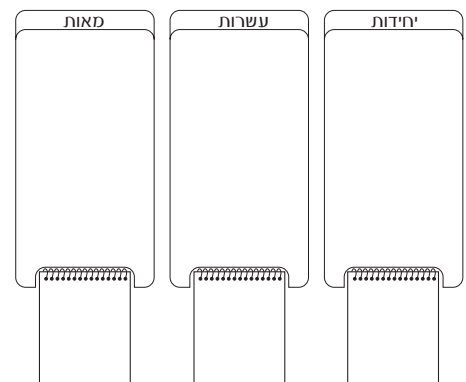
חמש מאות ושלושים



שבעים



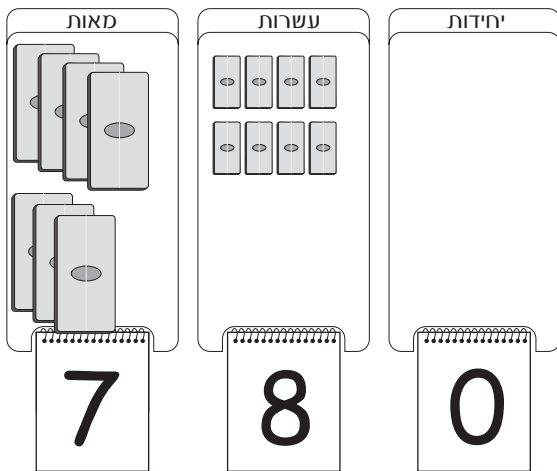
שמונה מאות וארבע



תשע מאות ותשעים

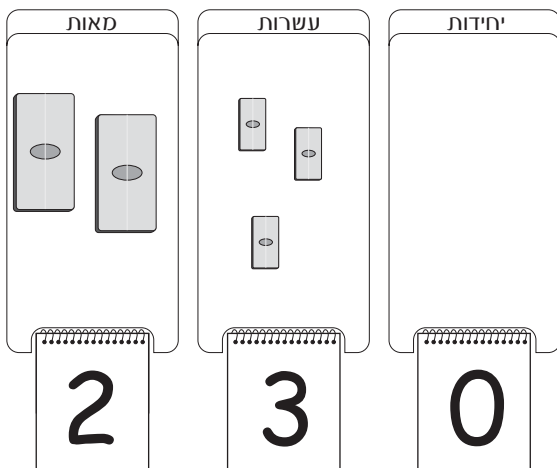
ענו על השאלות.

1



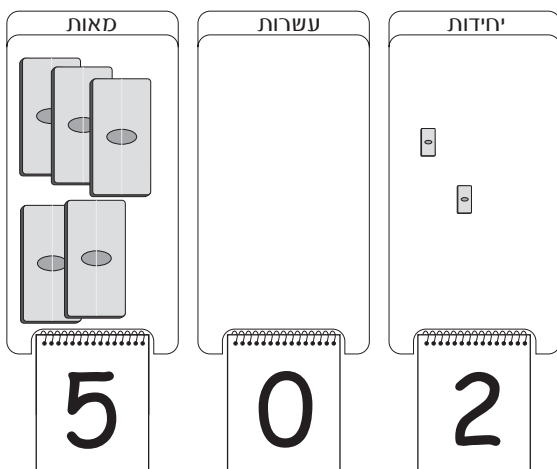
- מהי ספרת המאות במספר 780? _____
- כמה לבנים-של-100 מכיל המספר 780? _____
- מהי ספרת העשרות במספר 780? _____
- כמה לבנים-של-10 מכיל המספר 780? _____
- מהי ספרת היחידות במספר 780? _____
- כמה לבנים יחידות מכיל המספר 780? _____

2



- מהי ספרת המאות במספר 230? _____
- כמה לבנים-של-100 מכיל המספר 230? _____
- מהי ספרת העשרות במספר 230? _____
- כמה לבנים-של-10 מכיל המספר 230? _____
- מהי ספרת היחידות במספר 230? _____
- כמה לבנים יחידות מכיל המספר 230? _____


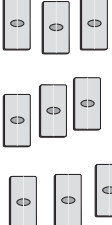



3



- מהי ספרת המאות במספר 502? _____
- כמה לבנים-של-100 מכיל המספר 502? _____
- מהי ספרת העשרות במספר 502? _____
- כמה לבנים-של-10 מכיל המספר 502? _____
- מהי ספרת היחידות במספר 502? _____
- כמה לבנים יחידות מכיל המספר 502? _____

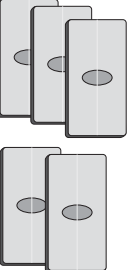
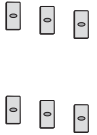



ענו על השאלות.

4

מאות	עשרות	יחידות
		
		

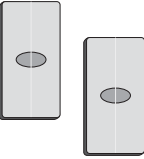
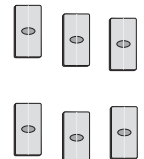



- מהי ספרת המאות במספר 190? _____
- כמה לבנים-של-100 מכיל המספר 190? _____
- מהי ספרת העשרות במספר 190? _____
- כמה לבנים-של-10 מכיל המספר 190? _____
- מהי ספרת היחידות במספר 190? _____
- כמה לבנים יחידות מכיל המספר 190? _____

5

מאות	עשרות	יחידות
		
		

- מהי ספרת המאות במספר 506? _____
- כמה לבנים-של-100 מכיל המספר 506? _____
- מהי ספרת העשרות במספר 506? _____
- כמה לבנים-של-10 מכיל המספר 506? _____
- מהי ספרת היחידות במספר 506? _____
- כמה לבנים יחידות מכיל המספר 506? _____

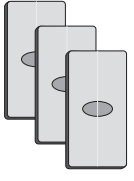
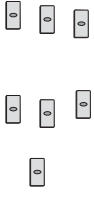
6

מאות	עשרות	יחידות
		
		

- מהי ספרת המאות במספר 260? _____
- כמה לבנים-של-100 מכיל המספר 260? _____
- מהי ספרת העשרות במספר 260? _____
- כמה לבנים-של-10 מכיל המספר 260? _____
- מהי ספרת היחידות במספר 260? _____
- כמה לבנים יחידות מכיל המספר 260? _____

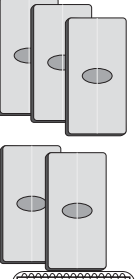
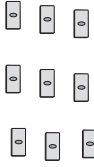
ענו על השאלות.

7

מאות	עשרות	יחידות
		
3	0	7

- מהי ספרת המאות במספר 307? _____
- כמה מאות יש במספר 307? _____
- מהי ספרת העשרות במספר 307? _____
- כמה עשרות יש במספר 307? _____
- מהי ספרת היחידות במספר 307? _____
- כמה יחידות יש במספר 307? _____

8

מאות	עשרות	יחידות
		
5	0	9

- מהי ספרת המאות במספר 509? _____
- כמה מאות יש במספר 509? _____
- מהי ספרת העשרות במספר 509? _____
- כמה עשרות יש במספר 509? _____
- מהי ספרת היחידות במספר 509? _____
- כמה יחידות יש במספר 509? _____

9

לדורון יש 207 לבנים.

כמה לבנים-של-10 יש לדורון?

הסבירו תשובתכם: _____

ענו על השאלות.

10

יואב בנה מגדל מלבנים-של-10.

במגדל יש 350 לבנים יחידות.

בכמה לבנים-של-10 השתמש יואב? _____

11

למיקי יש 350 לבנים יחידות.

לחיים יש 40 לבנים-של-10.

למי משניהם יש יותר לבנים? _____

הסבירו תשובתכם: _____

12

לאוהד יש 15 לבנים-של-10.

לרונית יש 150 לבנים יחידות.

למי משניהם יש יותר לבנים? _____

הסבירו תשובתכם: _____

13

אסתר אומרת שבמספר 430 יש 43 לבנים-של-10.

יעל אומרת שבמספר 430 יש 430 לבנים יחידות.

הסבירו, האם יתכן ששתיהן צודקות? _____

ענו על השאלות.

14

אמיר שיחק במשחק חיסול מפלצות.
בכל פעם שאמיר מחסל מפלצת הוא מקבל 10 נקודות.
כמה מפלצות חיסל אמיר אם קיבל 940 נקודות?

15

לשאל יש 25 מטבעות של 10 שקל.
לתמר יש 250 מטבעות של שקל אחד.
למי משניהם יש יותר כסף?
_____ הסבירו תשובתכם:

16

יובל אומר אומר שב-520 שקלים יש 52 מטבעות של 10 שקלים.
מעין אומרת שב-520 שקלים יש 520 מטבעות של שקל 1.
הסבירו, האם יתכן ששניהם צודקים?

17

לשלמה יש 130 שקלים במטבעות של 10 שקלים.
כמה מטבעות של 10 שקלים יש לשלמה?
