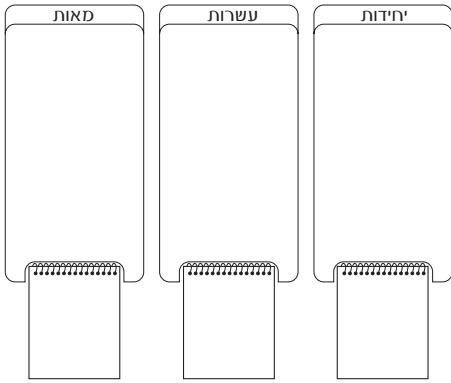
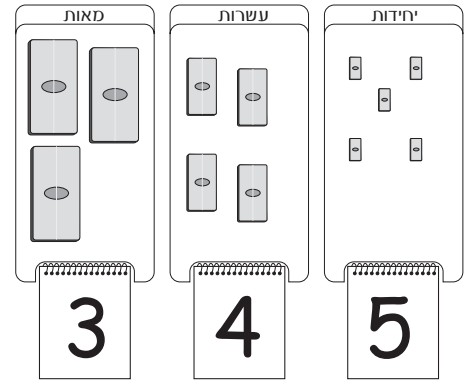


ציירו וכיתבו על לוח המבנה העשורי את המספרים הבאים.
 כיתבו את שמות המספרים.

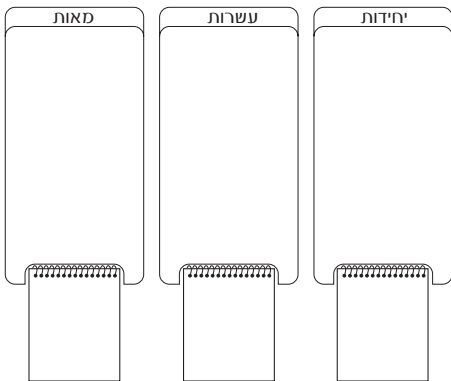
לדוגמה



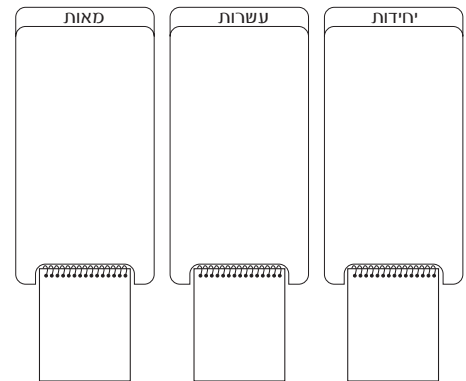
689



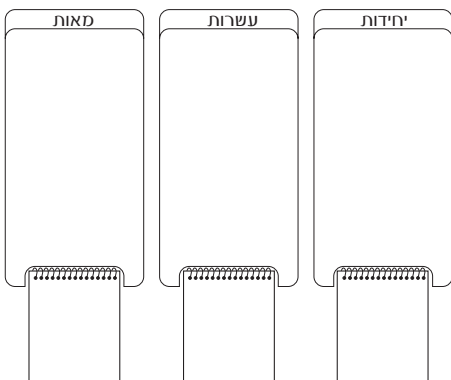
345 שלוש מאות ארבעים וחמש



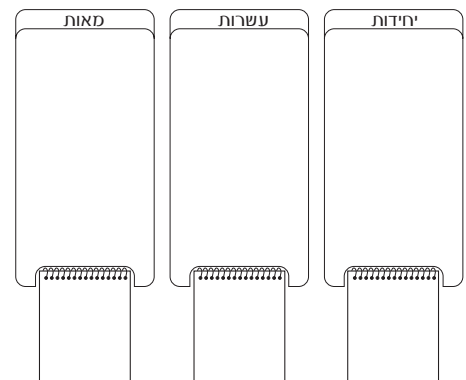
235



902



411



800

ציירו את הנתונים על לוח המבנה העשורי וענו על השאלות.

1

אלפים	מאות	עשרות	יחידות

הלבנים של דן מייצגות מספר תלת-ספרתי

יש לו 3 לבנים יחידות

יש לו 5 לבנים-של-10

יש לו לבנה אחת של-100

מה המספר שמייצגות הלבנים של דן?

2

אלפים	מאות	עשרות	יחידות

הלבנים של חתם מייצגות מספר תלת-ספרתי

יש לו 6 לבנים יחידות

יש לו 3 לבנים-של-10

יש לו 5 לבנים-של-100

מה המספר שמייצגות הלבנים של חתם?

3

אלפים	מאות	עשרות	יחידות

הלבנים של ערן מייצגות מספר תלת-ספרתי

יש לו 9 לבנים יחידות

יש לו 8 לבנים-של-100

מה המספר שמייצגות הלבנים של ערן?

ציירו את הנתונים על לוח המבנה העשורי וענו על השאלות.

4

אלפים	מאות	עשרות	יחידות

אני מספר תלת-ספרתי.

ספרת היחידות שלי היא 1

ספרת העשרות שלי היא 2

ספרת המאות שלי היא 3

מי אני.....?

5

אלפים	מאות	עשרות	יחידות

אני מספר תלת-ספרתי.

ספרת המאות שלי היא 6

ספרת העשרות שלי היא 0

ספרת היחידות שלי היא 2

מי אני.....?

6

אלפים	מאות	עשרות	יחידות

במספר תלת-ספרתי כלשהו, ספרת המאות

לא ידועה

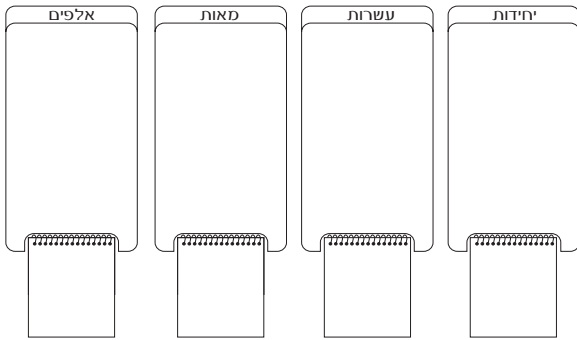
ספרת העשרות היא 2

ספרת היחידות היא 1

איזה המספר זה יכול להיות?

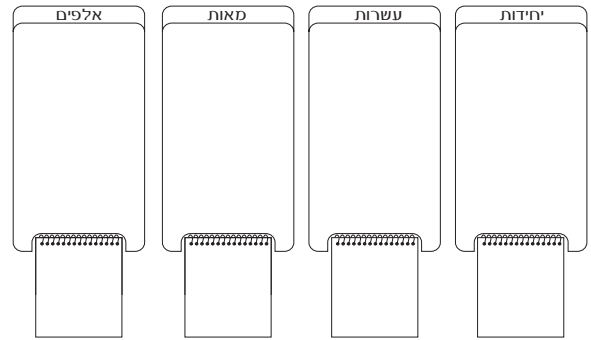
כתבו שתי אפשרויות לפחות.

ציירו את הנתונים על לוח המבנה העשורי וענו על השאלות.



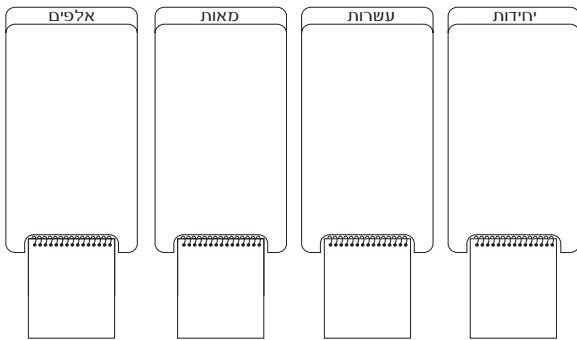
למאיה יש 28 לבנים-של-10.

מה ספרת העשרות במספר שמייצגות הלבנים של מאיה?



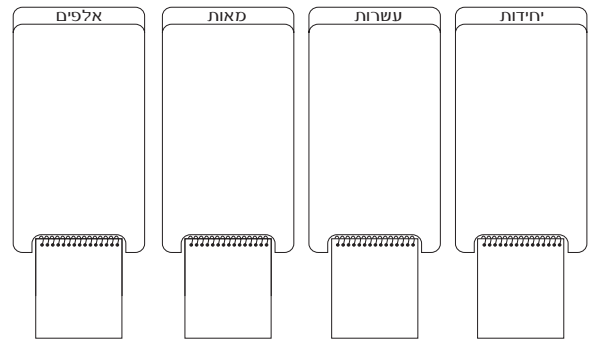
לטלי יש 2 לבנים-של-100.

מה ספרת היחידות במספר שמייצגות הלבנים של טלי?



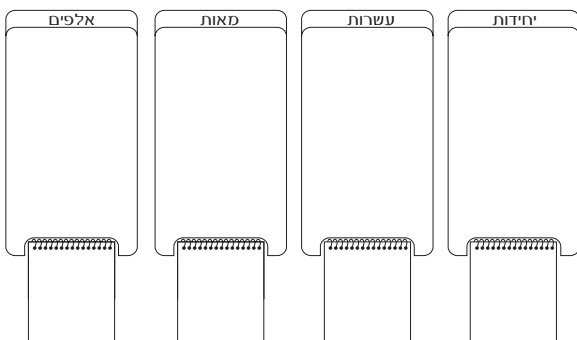
לאור יש 3 לבנים-של-100 ושתי לבנים-של-10.

מה ספרת היחידות במספר שמייצגות הלבנים של אור?



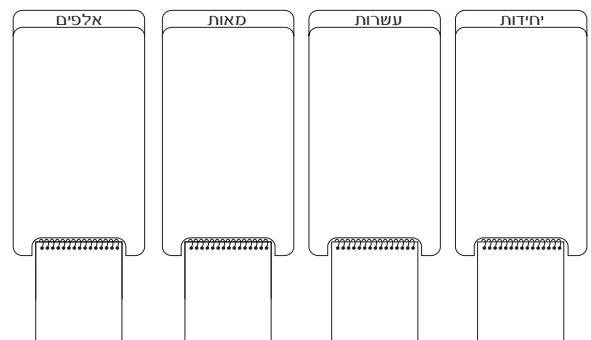
ליובל יש 3 לבנים-של-10.

מה ספרת המאות במספר שמייצגות הלבנים של יובל?



לשמעון יש 8 לבנים יחידות ו-2 לבנים-של-10 ולבנה

אחת-של-100. מהי ספרת העשרות במספר?



לשקד יש 6 לבנים יחידות ו-7 לבנים-של-100.

מה ספרת העשרות במספר שמייצגות הלבנים של שקד?

ענו על שאלות הבאות:

1

יורם רוצה לייצג את המספר 450 בלבנים-של-10.

בכמה לבנים-של-10 צריך יורם להשתמש? _____

2

נועה רוצה לייצג את המספר 450 בלבנים יחידות.

בכמה לבנים יחידות צריכה נועה להשתמש? _____

3

למאיה יש 28 לבנים-של-10.

לגיא יש 3 לבנים-של-100.

הלבנים של מי משניהם מייצגות מספר גדול יותר? _____

הסבירו את תשובתכם.

4

שיר ועינבר כתבו מספרים תלת-ספרתיים.

שיר כתבה מספר ש:

ספרת המאות במספר היא 2.

ספרת העשרות במספר היא 8.

ספרת היחידות היא 9.

עינבר כתבה מספר ש:

ספרת המאות במספר היא 2.

ספרת העשרות במספר היא 9.

ספרת היחידות היא 8.

מי משתייהן כתבה מספר גדול יותר? _____

הסבירו את תשובתכם.

ענו על שאלות הבאות:

4

לפניכם המספר 392

במספר 392 ספרת המאות היא _____

במספר 392 ספרת העשרות היא _____

במספר 392 ספרת היחידות היא _____

שנו את סדר הספרות במספר כך שתקבלו מספר תלת ספרתי גדול יותר.

המספר שיצרתם הוא: _____

במספר החדש ספרת המאות היא _____

במספר החדש ספרת העשרות היא _____

במספר החדש ספרת היחידות היא _____

5

לפניכם המספר 392

במספר 392 ספרת המאות היא _____

במספר 392 ספרת העשרות היא _____

במספר 392 ספרת היחידות היא _____

שנו את סדר הספרות במספר כך שתקבלו מספר תלת ספרתי קטן יותר.

המספר שיצרתם הוא: _____

במספר החדש ספרת המאות היא _____

במספר החדש ספרת העשרות היא _____

במספר החדש ספרת היחידות היא _____