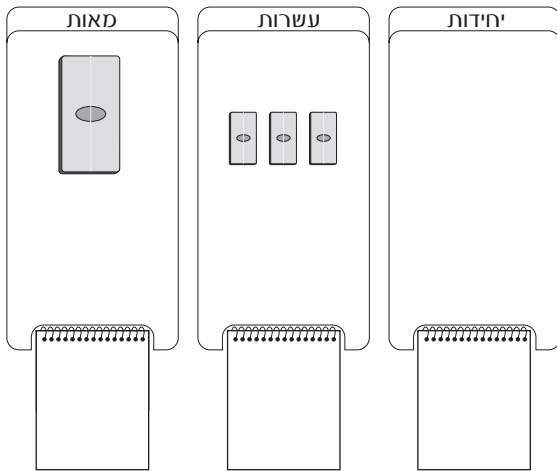


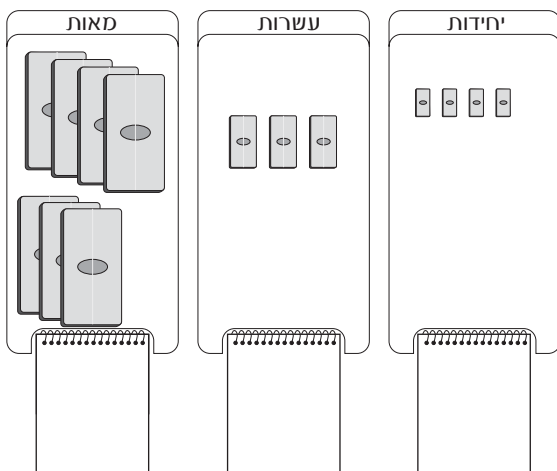
## ענו על השאלות.

1



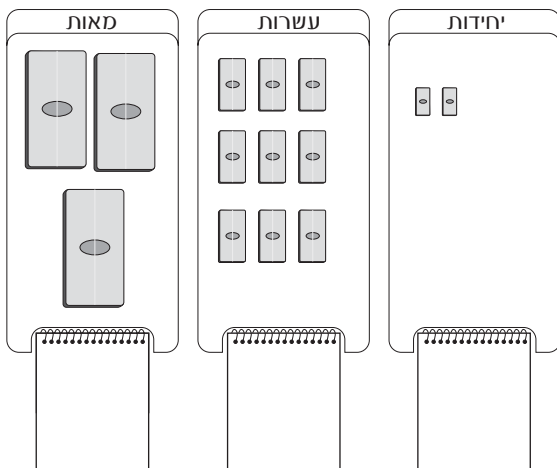
רשמו על כרטיסיות המספר את הספרות המתאימות.  
מהו המספר שקיבלתם? \_\_\_\_\_  
העריכו כמה לבנים של-10 יש במספר? \_\_\_\_\_  
בנו את המספר בלבנים של-10,  
רישמו כמה לבנים של-10 המספר מכיל.

2



רשמו על כרטיסיות המספר את הספרות המתאימות.  
מהו המספר שקיבלתם? \_\_\_\_\_  
העריכו כמה לבנים של-10 יש במספר? \_\_\_\_\_  
בנו את המספר בלבנים של-10,  
רישמו כמה לבנים של-10 המספר מכיל.

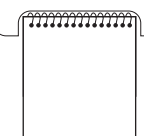

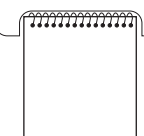
3



רשמו על כרטיסיות המספר את הספרות המתאימות.  
מהו המספר שקיבלתם? \_\_\_\_\_  
העריכו כמה לבנים של-10 יש במספר? \_\_\_\_\_  
בנו את המספר בלבנים של-10,  
רישמו כמה לבנים של-10 המספר מכיל.

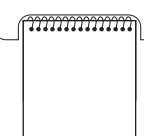
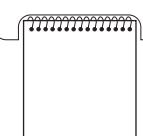
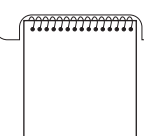
## השלימו את הנתונים וענו על השאלות.

4

מאות	עשרות	יחידות
		

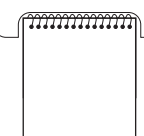

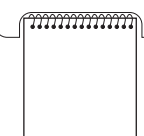
ציירו על לוח המבנה העשורי לבנים שתיצגנה את המספר 900.  
 העריכו כמה עשרות יש במספר. \_\_\_\_\_  
 בנו את המספר.  
 רישמו כמה עשרות מכיל המספר. \_\_\_\_\_  
 האם צדקתם בהערכתכם? \_\_\_\_\_

5

מאות	עשרות	יחידות
		

ציירו על לוח המבנה העשורי לבנים שתיצגנה את המספר 505.  
 העריכו כמה עשרות יש במספר. \_\_\_\_\_  
 בנו את המספר.  
 רישמו כמה עשרות מכיל המספר. \_\_\_\_\_  
 האם צדקתם בהערכתכם? \_\_\_\_\_

6

מאות	עשרות	יחידות
		

ציירו על לוח המבנה העשורי לבנים שתיצגנה את המספר 648.  
 העריכו כמה עשרות יש במספר. \_\_\_\_\_  
 בנו את המספר.  
 רישמו כמה עשרות מכיל המספר. \_\_\_\_\_  
 האם צדקתם בהערכתכם? \_\_\_\_\_

מתחתו קו בין לוח המבנה העשורי לבין כמות העשרות (האליליפסה) המתאימה לו. סמנו X על האליפסה המתוררת.

מאות	עשרות	יחידות	מאות	עשרות	יחידות	מאות	עשרות	יחידות
2	5	0	3	0	0	4	0	0

- 25 עשרות
- 40 עשרות
- 50 עשרות
- 10 עשרות
- 60 עשרות
- 30 עשרות
- 70 עשרות

מאות	עשרות	יחידות	מאות	עשרות	יחידות	מאות	עשרות	יחידות
7	0	0	1	0	0	6	0	0

מתחם קו בין לוח המבנה העשורי לבין כמות העשרות (האלפיסה) המתאימה לו. סמנו X על האלפיסות המיותרות.

מאות 2	עשרות 4	יחידות 0	מאות 4	עשרות 3	יחידות 0	מאות 3	עשרות 4	יחידות 0
-----------	------------	-------------	-----------	------------	-------------	-----------	------------	-------------

24 עשרות

78 עשרות

43 עשרות

34 עשרות

65 עשרות

56 עשרות

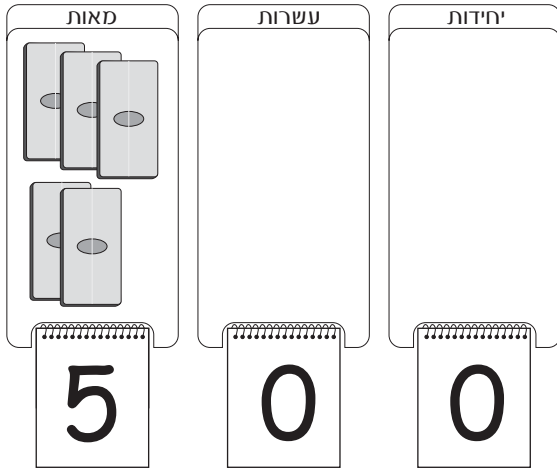
87 עשרות

63 עשרות

מאות 8	עשרות 7	יחידות 0	מאות 7	עשרות 8	יחידות 0	מאות 5	עשרות 6	יחידות 0
-----------	------------	-------------	-----------	------------	-------------	-----------	------------	-------------

## הקיפו בעיגול את כמות העשרות המתאימה למספר שמיוצג על לוח המבנה העשורי.

1

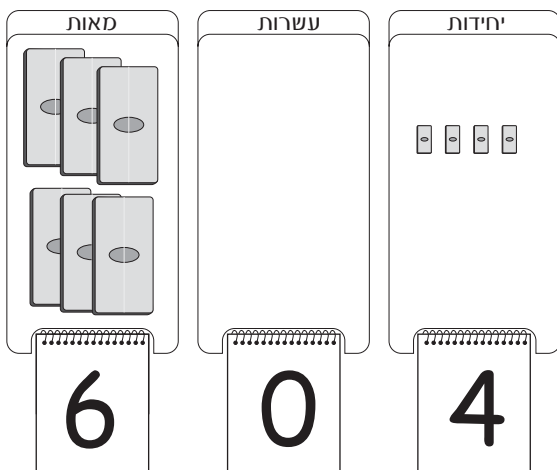


50 עשרות

5 עשרות

0 עשרות

2

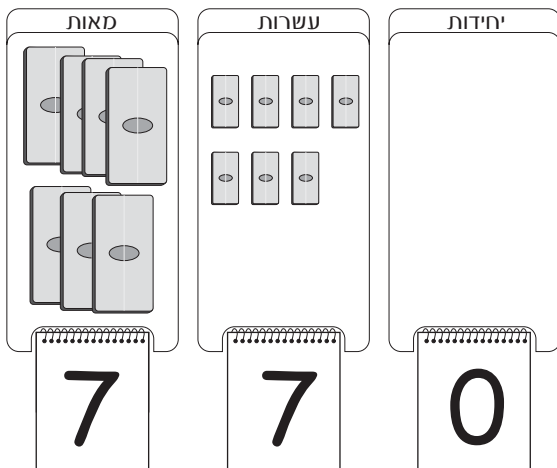


0 עשרות

64 עשרות

40 עשרות

3



7 עשרות

70 עשרות

77 עשרות

## הקיפו בעיגול את כמות העשרות המתאימה למספר שמיוצג על לוח המבנה העשורי.

4

מאות	עשרות	יחידות
3	9	0

9 עשרות

30 עשרות

39 עשרות

5

מאות	עשרות	יחידות
7	3	2

32 עשרות

73 עשרות

3 עשרות

6

מאות	עשרות	יחידות
3	9	1

39 עשרות

91 עשרות

9 עשרות

## פתרו את החידות. ניתן להעזר בלבנים.

1

אני מספר דו-ספרתי המכיל רק 8 עשרות.

מי אני? \_\_\_\_\_

2

אני מספר תלת-ספרתי המכיל רק 30 עשרות.

מי אני? \_\_\_\_\_

3

אני מספר ארבע-ספרתי המכיל רק 100 עשרות.

מי אני? \_\_\_\_\_

4

אני מספר תלת-ספרתי המכיל רק 45 עשרות.

מי אני? \_\_\_\_\_

5

אני מספר תלת-ספרתי המכיל רק 77 עשרות.

מי אני? \_\_\_\_\_

6

אני מספר ארבע-ספרתי המכיל רק 112 עשרות.

מי אני? \_\_\_\_\_

7

אני מספר תלת-ספרתי המכיל רק 83 עשרות.

מי אני? \_\_\_\_\_

## פתרו את החידות. ניתן להעזר בלבנים.

1

לחגית יש 220 שקלים במטבעות של 10 שקלים.

כמה מטבעות של 10 שקלים יש לחגית? \_\_\_\_\_

2

לשחר יש 530 שקלים במטבעות של 10 שקלים.

לדונה יש 539 שקלים במטבעות של 10 שקלים?

למי משניהם יש יותר מטבעות של 10 שקלים? \_\_\_\_\_

הסבירו תשובתכם. \_\_\_\_\_

3

כמה עשרות מכיל המספר 790? \_\_\_\_\_

4

בחרו מספר משלכם ורשמו:

המספר שלי הוא \_\_\_\_\_

המספר מכיל \_\_\_\_\_ עשרות.

5

אני מספר תלת-ספרתי, אם תוסיף לי 20 עשרות הוא יכיל 35 עשרות.

מי אני? \_\_\_\_\_