




ענו על השאלות.

1

מאות	עשרות	יחידות
		

למעין יש לבנה אחת של מאה.

כמה לבנים של עשר יש למעין?

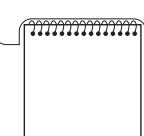
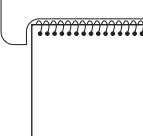
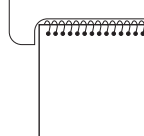
כמה לבנים יחידות יש למעין?

תשובה:

למעין יש _____ לבנים של עשר.

למעין יש _____ לבנים יחידות.

2

מאות	עשרות	יחידות
		

לענת יש לבנה אחת של אלף.

כמה לבנים יחידות יש לענת?

כמה לבנים של עשר יש לענת?

כמה לבנים של מאה יש לענת?

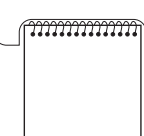
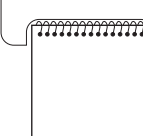
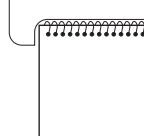
תשובה:

לענת יש _____ לבנים יחידות.

לענת יש _____ לבנים של עשר.

לענת יש _____ לבנים של מאה.

3

מאות	עשרות	יחידות
		

לגילה יש שלוש לבנים של עשר.

כמה לבנים יחידות יש לגילה?

תשובה:

לגילה יש _____ לבנים יחידות.

ענו על השאלות.

4

מאות	עשרות	יחידות




לאורנה יש שלוש לבנים של עשר.

כמה לבנים יחידות יש לאורנה? _____

5

מאות	עשרות	יחידות



לדוד יש 70 לבנים יחידות.


דוד ארז את הלבנים ככל יכולתו.

ציירו את הלבנים הארוזות.

כיתבו כמה לבנים-של-10 דוד יכול לארוז? _____

6

מאות	עשרות	יחידות



לגל יש 30 לבנים-של-10

גל ארז את הלבנים ככל יכולתו.

ציירו את הלבנים הארוזות.

כמה לבנים-של-100 גל יכול לארוז? _____